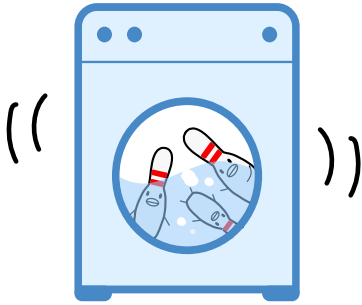





月 日



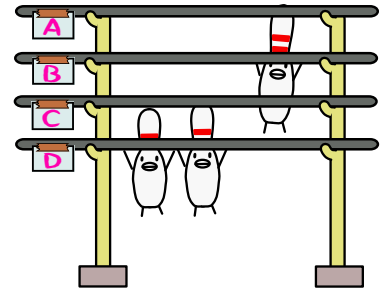
1 ピンたちが
せんたくされている。



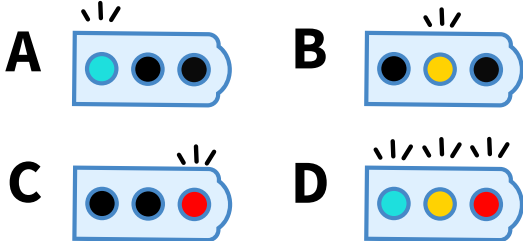
2 ピンたちは
ものほしざおに ぶらさがって
からだを かわかすよ。



3 ものほしざおは
A・B・C・Dの 4ほんある。


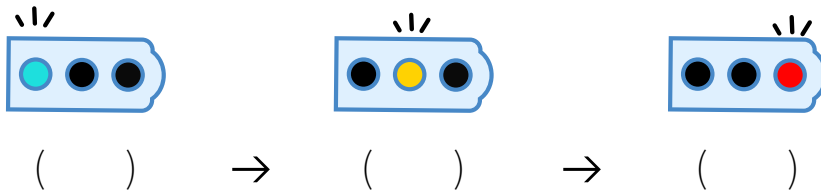


4 どれに ぶらさがればいいのか ナマジが しんごうを てんめつして おしえてくれる。

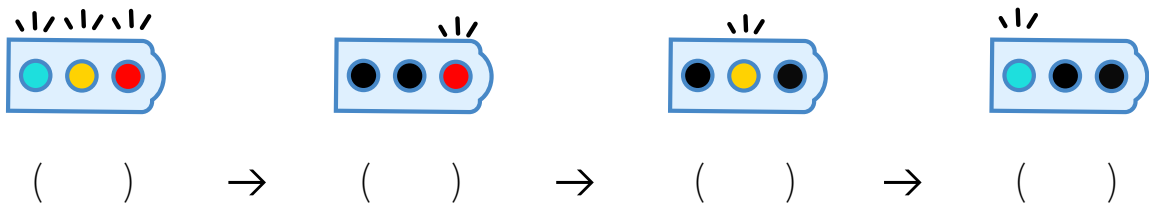


いちばんひだりが ひかったら、Aのさお
まんなかが ひかったら、Bのさお
いちばんみぎが ひかったら、Cのさお
3つともぜんぶ ひかったら、Dのさお

5 3にんの ピンたちの せんたくが おわったぞ。
ピンたちは じゅんばんに A・B・C・Dの
どれに ぶらさがるかな？



6 こんどは 4にんの ピンたちの せんたくが おわったぞ。
じゅんばんに どれに ぶらさがるかな？



7 どんどん せんたくが おわっていくぞ。 こんどはどうか？

