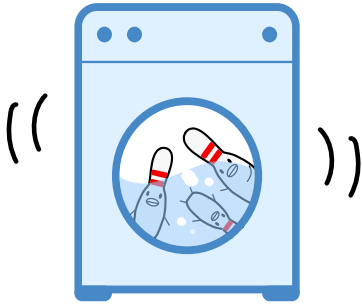





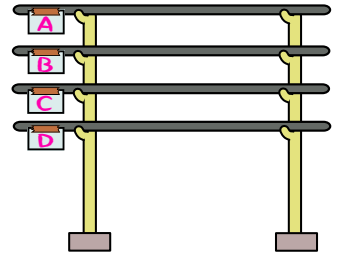
1 ピンたちが
せんたくされている。



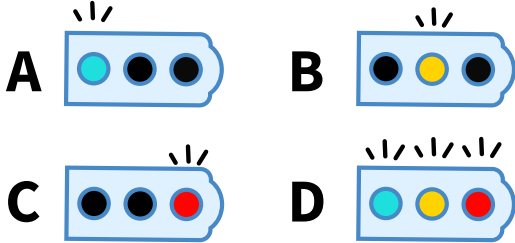
2 ピンたちは
ものほしざおに ぶらさがって
からだを かわかすよ。



3 ものほしざおは
A・B・C・Dの 4ほんある。

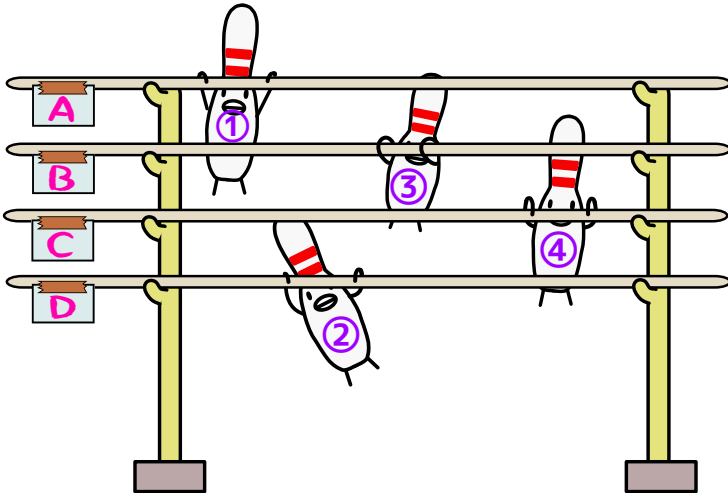


4 どれに ぶらさがればいいのか ナマジが しんごうを てんめつして おしえてくれるよ。



いちばんひだりが ひかったら、Aのさお
まんなかが ひかったら、Bのさお
いちばんみぎが ひかったら、Cのさお
3つともぜんぶ ひかったら、Dのさお

5



せんたくが おわった ピンたちは
ものほしざおに ①～④の
じゅんばんで ぶらさがった。

どれに ぶらさがればいいのかを
おしえてあげるために、
ナマジは しんごうを
どのように てんめつしたかな？

6 まずは、①～④の ピンたちが A～Bの どの ものほしざおに ぶらさがったのか
かんがえてみよう。

① → ② → ③ → ④

() → () → () → ()

7 つぎに、どの しんごうきを てんめつさせたのか かんがえてみよう。
ライトを ぬりつぶしてね。

