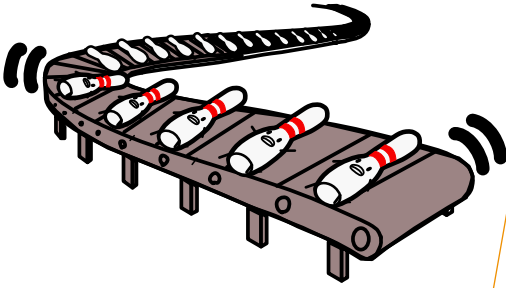





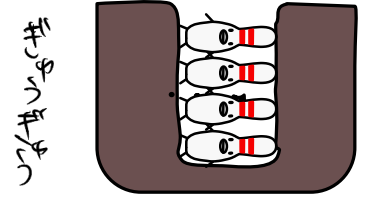
1 ベルトコンベアーに のって ピンたちが  
ながれてきた。



2 ピンたちは じぶんで あなに  
ゴロンと おちるよ。




3 あなのなかでは ピンたちは  
たていちれつになって  
おさまっているよ。

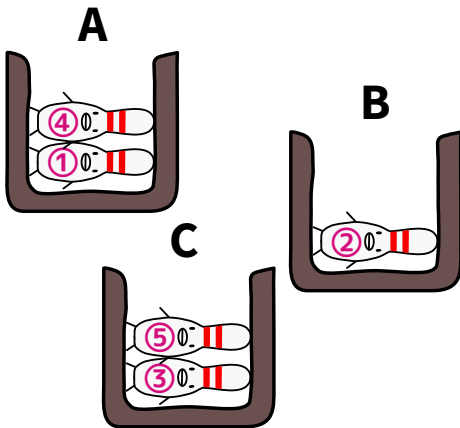


4 あなたは A・B・Cの 3こある。 どれに おちればいいのか、ナマジが はたを つかって おしえてくれるぞ。

もし、みぎてに もっているはたが あがったばあい、Aのあなに おちる。  
もし、ひだりてに もっているはたが あがったばあい、Bのあなに おちる。  
もし、りょうてに もっているはたが あがったばあい、Cのあなに おちる。



5 ピンたちは ①から⑤のじゅんばんで A、B、Cの どれかのあなに おちていったよ。そのとき ナマジは どうやって はたを あげたのかな? ※( )に ピンが おちた あなの アルファベットを かいて、つぎに ナマジが はたを あげたてに まるつけてね。



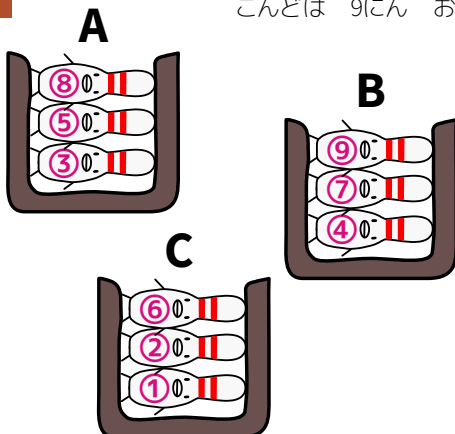
① ( ) → ② ( ) → ③ ( ) → ④ ( ) → ⑤ ( )

みぎて → みぎて → みぎて → みぎて → みぎて  
ひだりて → ひだりて → ひだりて → ひだりて → ひだりて  
りょうて → りょうて → りょうて → りょうて → りょうて

まずは ①のピンからじゅんばんに A、B、Cのどのあなに おちたのか かんがえてみよう。 つぎに その あなに おちるために ナマジは どのての はたを あげたらいいのか かんがえてみよう。



6 こんどは 9にん おちたぞ。 ナマジは どうやって はたを あげた?



① みぎて → ② みぎて → ③ みぎて → ④ みぎて → ⑤ みぎて  
ひだりて → ひだりて → ひだりて → ひだりて → ひだりて  
りょうて → りょうて → りょうて → りょうて → りょうて

⑥ みぎて → ⑦ みぎて → ⑧ みぎて → ⑨ みぎて  
→ ひだりて → ひだりて → ひだりて → ひだりて  
りょうて → りょうて → りょうて → りょうて